

2022年度

豊島岡女子学園中学校

入学試験問題

(1回)

社 会

注意事項

1. 合図があるまで、この冊子を開いてはいけません。
2. 問題は から 、2 ページから 10 ページまであります。
合図があったら確認してください。
3. 解答は、すべて指示に従って解答らんに記入してください。
4. 解答用紙は理科と共通になっています。

1 次の文章を読んで問いに答えなさい。

人間の体はそのほとんどが水でできています。子どもで体重の約70パーセント(%)、成人では約65%が水分であるといわれています。しかし、地球上に存在する水のうち、97.5%を占めるのが海水で、飲み水や生活用水として利用できる淡水はたった2.5%ほどです。しかも人間が実際に取水して利用できるのは、(ア)地中のごく浅い所にある地下水か、(イ)川、湖、沼など地表にあるものだけで、これは、地球全体の水の0.02%程度の量にすぎません。ですから、古来より水の確保は人類にとって最優先の事柄でした。

多摩の羽村から四谷までつながる玉川上水は(ウ)17世紀に築かれ、江戸市中へ飲料水を供給していました。その一部区間は、現在でも(エ)東京都水道局の現役の水道施設として活用されています。(オ)近代日本の水道事業の始まりは1887年に横浜で敷設された近代水道で、1890年に(カ)水道条例が制定されました。戦後には公衆衛生の改善が進むなかで、1957年には水道法が制定されて水道の整備が進み、現在の日本の水道普及率は98%となり(キ)国民皆水道がほぼ実現しています。

生活のための水を供給する施設である水道は、長らく政府の管理下で整備・運営されてきました。しかし、2018年12月に(ク)衆参両院で水道法改正法案が可決され、水道事業の民営化が可能となりました。水道法の改正の目的について(ケ)省は、「人口減少に伴う水の需要の減少、水道施設の老朽化、深刻化する人材不足等に対応し、水道の基盤強化を図るため」と説明しています。水道事業は市区町村単位で運営されているため、人口が少ない自治体では水道を管理する人手が足りなかったり、水道事業が大きな負担となっていたりすることも少なくありません。水道料金がとて高くなってしまった自治体もあります。そのため、もっと広い範囲で水道事業を運営できるようにしたり、民間企業による競争を取り入れたりすることで、水道事業の抱える課題に対応し、水道環境を維持していこうというわけです。

水道法の改正を受けて、水道事業の運営権を民間に売却する議案が可決された自治体もあります。しかし、水道事業の民営化による水質の悪化や料金の大幅な値上げへの不安を訴える声もあり、1990年代に水道事業を民営化したフランスやドイツなどが近年になって再公営化している事例を挙げて、民営化に反対する意見もあります。そのようななかで、岩手県矢巾町では住民参画の水道サポーター制度を発足させ、住民と職員とで意見を重ねながら水道事業にあたっています。彼らは今の水質を維持し、未来の子どもたちに安全な水道を残すためにこのような決断に至ったということです。(コ)一般の人々が自治体とともに水道事業に参画するという動きは、民営化とはまた違った選択肢といえるでしょう。

(サ)水道は私たちが生きていくためになくてはならないものです。今後どのような形であっても、安全な水を安定的に供給していくことが求められています。私たちの命の水を守っていくために水道事業はどうあるべきか、皆が考え、話し合っていかなければなりません。

問1. 下線部(ア)について、地下水を生活用水などに利用するために、おもに地面に垂直な穴を掘って作る、水を得るための設備を何といいますか、漢字2字で答えなさい。

問2. 下線部(イ)について、流域が一つの県のみで他県にまたがっていない河川を、次から一つ選び番号で答えなさい。

1. 北上川 2. 神通川 3. 利根川 4. 長良川 5. 最上川

問3. 下線部(ウ)に関連して、同じころに江戸の市街地では、広い道路や空き地が作られました。これはある災害に関連して作られたものですが、そのような場所が作られた目的を、20字以内で説明しなさい。

問4. 下線部(エ)について述べた次の文のうち、**あやまっているもの**を一つ選び番号で答えなさい。

1. 衆議院議員選挙における小選挙区の数は、47都道府県のうちで最も多い。
2. 生活に便利な街なので人口が集中しているが、2021年には人口が減少した月もみられた。
3. 西部は山地や丘陵地が多く、東部は台地や低地が多い。
4. 都庁がある千代田区には、行政機関、金融機関や大企業の本社などが集中している。

問5. 下線部(オ)について、日本の近代化は江戸時代の終わりごろから始まっていましたが、そのころの状況について説明した次の文のうち、正しいものを一つ選び番号で答えなさい。

1. ペリーが来航して開国を求めたため、日本はその翌年に日米修好通商条約を締結してアメリカとの貿易を開始した。
2. 吉田松陰らを処罰した安政の大獄を行った井伊直弼は、桜田門外の変によって水戸藩出身の浪人たちに暗殺された。
3. 尊王攘夷の考えを持っていた薩摩藩は、下関海峡を通る外国船を砲撃してイギリスとの戦争につながった。
4. 鳥羽・伏見の戦いで敗れた徳川慶喜は、薩長両藩からの批判をかわすために朝廷に対して大政奉還を行った。

問6. 下線部(カ)は現在の条例とは異なり元老院でその審議が行われました。これに対して、日本国憲法下における現在の条例について説明した次の文のうち、最も適切なものを一つ選び番号で答えなさい。

1. 内閣の閣議決定により制定されるもので、法律の範囲内で定めることができる。
2. 特定の地方公共団体にのみ適用されるもので、衆参両院で可決した後に住民投票での賛成を経て制定される。
3. 地方公共団体が各地域の抱える課題に対応するため、地方議会において制定される。
4. 国家間や国家と国際機関との約束事を文書化したもので、法的拘束力を持つ。

問7. 下線部(キ)に関連して、「国民皆〇〇」とは、すべての国民がその制度を利用可能となっている状態を表していますが、このような状態になっているといえる制度を、次から二つ選び番号で答えなさい。

1. 育児休業手当
2. 健康保険
3. 国民年金
4. 雇用保険
5. 児童手当

問8. 下線部(ク)について述べた次の文のうち、正しいものを一つ選び番号で答えなさい。

1. 法律案について、衆参両院の議決が異なり、両院協議会でも合意が得られない場合は、衆議院の議決が国会の議決となる。
2. 最高裁判所の裁判官は、任命後の衆議院議員総選挙または参議院議員選挙の際に、国民により審査される。
3. 衆参両院の議員の定数は法律によって定められているので、定数変更の際に憲法の改正は必要ない。
4. 内閣不信任の決議権は衆議院のみに付与されているが、参議院には法的拘束力のある内閣問責決議権がある。

問9. 空らん（ケ）にあてはまる語句を漢字で答えなさい。

問10. 下線部(コ)のように、一般市民の意見を統治に取り入れる制度の一つに裁判員制度があります。裁判員裁判が行われる裁判所を、次から一つ選び番号で答えなさい。

1. 簡易裁判所
2. 高等裁判所
3. 最高裁判所
4. 地方裁判所
5. 特別裁判所

問11. 下線部(サ)について、飲み水が私たちのところに来るまでに、次の1～4の過程をすべて通るとしたら一般にどのような順番になりますか、番号で答えなさい。

1. 浄水場
2. 水源林
3. ダム
4. 取水施設（取水堰・取水塔）

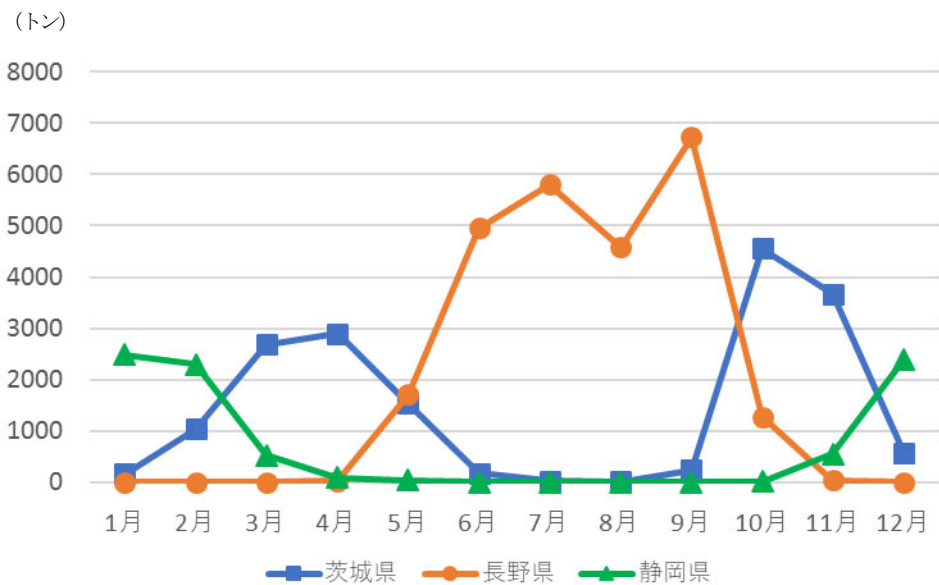
2

次の問いに答えなさい。

問1. 大雨が降った時に発生する可能性のある災害として、**適切でないもの**を次から二つ選び番号で答えなさい。

1. 液状化現象 2. がけ崩れ 3. 洪水 4. 津波 5. 土石流

問2. 次のグラフは1年間の東京中央卸売市場におけるレタスの月別入荷先(2020年)を示したものです。このグラフから推定されるレタスの栽培適温(°C)として、最も適切なものを下から一つ選び番号で答えなさい。



(東京都中央卸売市場「市場統計情報」より作成)

1. 0°C未満 2. 5°C~10°C 3. 15°C~20°C 4. 25°C~30°C

問3. 次の地図中のあ～うの地域は、いずれも稲作があまり行われていない地域ですが、その要因としてそれぞれの地域に特徴的な土・岩石が分布していることがあげられます。その組み合わせとして、最も適切なものを右の表の1～6から選び番号で答えなさい。



	1	2	3	4	5	6
火山灰土	あ	あ	い	い	う	う
石灰岩	い	う	あ	う	あ	い
でいたん 泥炭	う	い	う	あ	い	あ

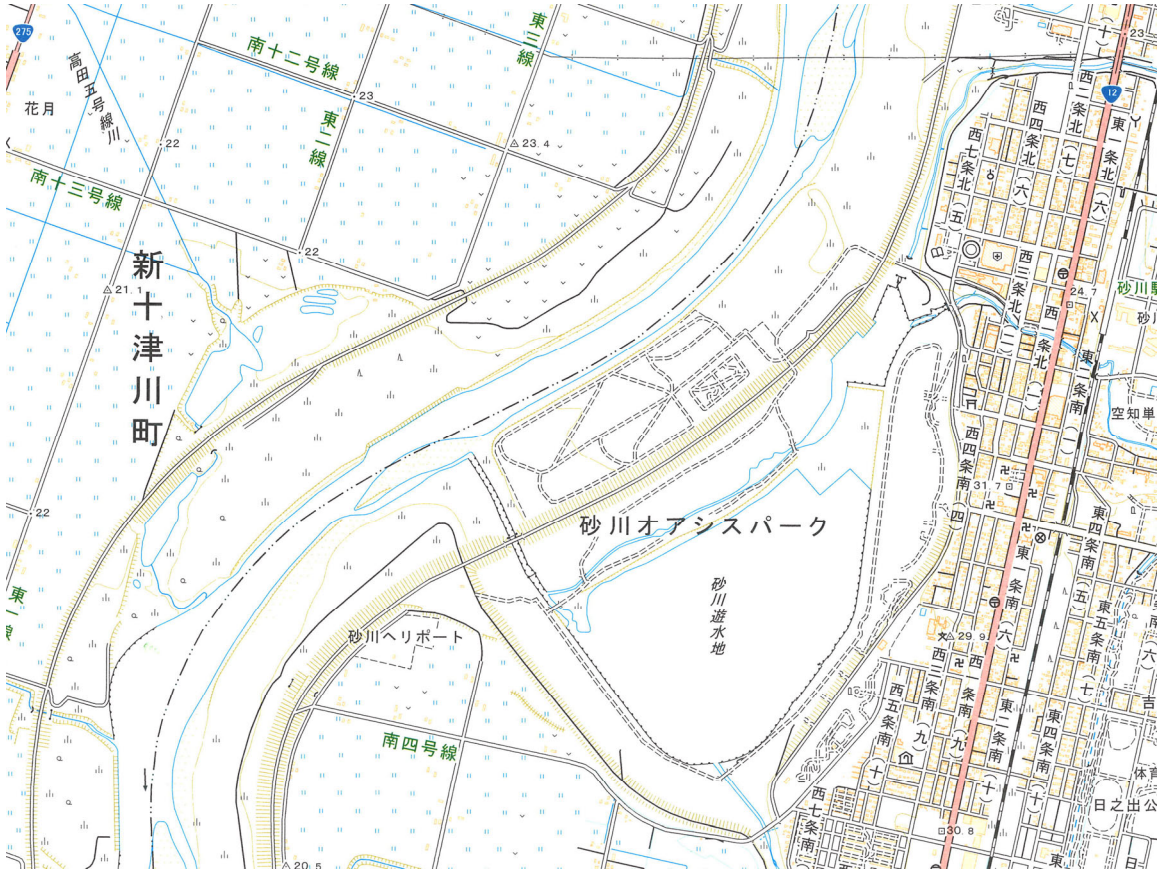
問4. 次の表は都府県別の国宝の指定件数(2021年9月1日時点)です。国宝は美術工芸品と建造物に分けられ、表中の1～4は、大阪府、京都府、東京都、奈良県のいずれかです。このうち、東京都にあたるものを選び番号で答えなさい。

	1	2	3	4
美術工芸品	281	185	142	57
建造物 (棟数)	2	73	71	8

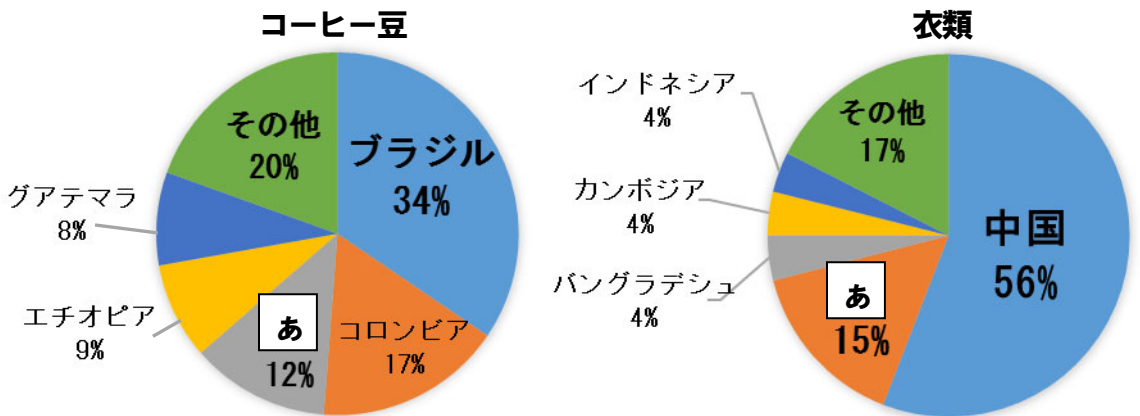
(文化庁ホームページより作成)

問5. 鉄鋼の主な原料は鉄鉱石、コークス、石灰石です。このうちコークスは、ある鉱産資源を加工して作られるものですが、その資源の名称を答えなさい。

問6. 次の図は、国土地理院発行2万5千分の1地形図「砂川」の一部です。図中の砂川遊水地は、石狩川
 の洪水を防ぐための工事の結果、石狩川から切り離されることで生まれたある地形を利用して作
 られました。その地形を何といいますか、漢字で答えなさい。



問7. 次のグラフは、コーヒー豆と衣類における日本の輸入金額の貿易相手国ごとの割合(2019年)を示
 したものです。グラフのあにあてはまる国を、下から選び番号で答えなさい。



(『データブックオブ・ザ・ワールド2021』より作成)

1. アメリカ 2. イタリア 3. エジプト 4. ベトナム 5. メキシコ

3

次の文章を読んで問いに答えなさい。

承久の乱で勝利したのは北条義時、御成敗式目を制定したのは北条泰時、蒙古襲来で御家人をまとめたのは北条時宗と、鎌倉時代に権力を握った北条氏の人物は、「時」の字が名前につけられています。このように、一族で代々名前に継承していく文字を通字(とおrij・つうじ)といいます。日本の歴史を振り返ると、こうした例はほかにも多くみられます。平清盛・平重盛など桓武平氏は「盛」、源頼義・源義家・源義経や(ア)源頼朝・源頼家など清和源氏は「義」や「頼」が通字となっています。

では、通字はいつごろからつけられるようになったのでしょうか。埼玉県稲荷山古墳から発見された鉄剣には、ワカタケル大王に仕えた「ヲワケ」の祖先たちの名が刻まれています。この時期の名前は文字よりも音が重視されていたようです。飛鳥時代に権力を振るった蘇我氏も(イ)蘇我馬子・蘇我蝦夷・蘇我入鹿と共通の文字はなく、さらに摂関政治を担った藤原氏は、その直系の子孫にあたる(ウ)近衛文麿に至るまで定まった通字はみられません。通字が定着していったのは、領地や役職などを継承する家制度が確立した平安時代の後半からと考えられていて、武家の棟梁である桓武平氏も、平将門の乱を鎮圧した平貞盛にあやかって平安後期から「盛」の字をつけるようになっていきました。

ところで、名前の1字は主君の名前からもらいうけるという習慣もありました。たとえば、(エ)足利尊氏の「尊」は後醍醐天皇の尊治という名前からもらったものです。江戸幕府の將軍家は徳川家康・徳川家光など「家」が通字でしたが、15代のうち徳川秀忠・徳川綱吉・徳川吉宗・徳川慶喜と名前に「家」がつかない將軍が4人いました。これは、秀忠が(オ)、綱吉が徳川家綱、吉宗が徳川綱吉、慶喜が徳川家慶と、それぞれ幼少時の主君から1字をつけたものだからです。このように、名前には(カ)主従関係の影響も大きくみられるのです。

これに対し、(キ)女性の名前はどうかだったのでしょうか。古代においては、持統天皇が鷗野讃良、光明皇后が安宿媛などという名前でしたが、平安時代になると皇女や貴族の娘に「子」の字をつけることが定着していきました。

近代になると、上流の女性への憧れから庶民にも「子」の字が広まっていった一方で、男性の通字はあまり目立たなくなりました。さらに現在は、男性の通字や女性の「子」は減少し、名前も多様化しています。これは、戦後になって家制度や主従関係が急激に薄まっていったことも影響しているでしょう。このように、名前は社会の状況を反映するものでもあります。将来は、どのような社会となり、どのような名前が使われているのでしょうか。

問1. 下線部(ア)と同じ時に平家打倒^{だとう}の兵を挙げた源義仲は、育った地にちなんで□□義仲とも呼ばれています。□□にあてはまる地名を漢字2字で答えなさい。

問2. 下線部(イ)の人々が生きていた時期について説明した次の文のうち、**あやまっているもの**を一つ選び番号で答えなさい。

1. 冠位十二階や憲法十七条が定められた。
2. 遣唐使がはじめて派遣^{はけん}された。
3. 戸籍に基づいて民衆に土地を配分するようになった。
4. 四天王寺や法隆寺などの寺院が建立された。

問3. 下線部(ウ)は太平洋戦争の直前まで首相をつとめた人物ですが、日中戦争開戦から太平洋戦争開戦までの時期のことについて説明した次の文のうち、**あやまっているもの**を一つ選び番号で答えなさい。

1. アメリカは、ドイツと同盟を結んだ日本がインドシナ半島へ進出したことを批判し、日本へ石油などの輸出を禁止した。
2. 国の方針に協力する大政翼賛会^{たいせいよくさんかい}が結成され、選挙で立憲政友会などの他の政党に勝利して一党独裁となった。
3. 国家総動員法を定め、議会の承認がなくても天皇の命令によって戦争に必要な物資や人を動員できるようにした。
4. 日本は中国の首都であった南京^{せんりょう}を占領したが、アメリカの参戦を期待する中国は抵抗^{ていこう}を続けて日中戦争は長期化した。

問4. 下線部(エ)について、後醍醐天皇の倒幕の呼びかけに応じた足利尊氏が攻め落とした京都の組織(役所)を何といいますか、漢字で答えなさい。

問5. 空らん(オ)にあてはまる人物の氏名を漢字で答えなさい。

問6. 下線部(カ)について説明した次の文を、時代の古い順に並べ替えて番号で答えなさい。

1. 家臣が主君を倒す事件が起こるなど下剋上^{げこくじょう}の風潮が強まり、全国的な戦乱が長期にわたって続いた。
2. 幕府と大名との主従関係を維持^{いじ}するために参勤交代の制度を定めて、大名を領地と幕府所在地との間で往復させた。
3. 東国を中心に将軍と主従関係を結んだ武士は御家人と呼ばれ、各地の地頭に任じられ、先祖伝来の土地を守った。
4. 天皇家が分裂^{ぶんれつ}して同時に二人の天皇が存在し、各地で対立していた武士がそれぞれに結びついて争った。

問7. 下線部(キ)に関連して、歴史上の女性について説明した次の文のうち、正しいものを一つ選び番号で答えなさい。

1. 天皇の^{きさき}后となった紫式部は、現代でも高い評価を受けている仮名文学^{あらわ}を著した。
2. 将軍の妻であった北条政子は、朝廷との戦いで武士たちをまとめた。
3. 戦国時代の出雲の阿国は、人形浄瑠璃^{にんぎょうじょうり}の芸能を創始した。
4. 津田梅子は、雑誌『青鞥^{せいとう}』を発刊して女子教育に力を注いだ。

