

2020年度

豊島岡女子学園中学校

入学試験問題

(3回)

社 会

注意事項

1. 合図があるまで、この冊子を開いてはいけません。
2. 問題は から 、2 ページから 7 ページまであります。
合図があったら確認してください。
3. 解答は、すべて指示に従って解答らんに記入してください。
4. 解答用紙は理科と区別するために、うすい水色になっています。

1

次の文章を読んで問いに答えなさい。

人間が集まって生活をする共同体は集落となり、やがて都市に発展していきます。(ア)弥生時代には吉野ヶ里遺跡^{いせき}にみられるような大規模な環濠集落^{かんごう}が作られました。古墳時代には、大王や豪族^{おおきみ}の居館^{ごうぐく}の周辺に集落がみられますが、まだ都市と呼べるほどのものではありませんでした。

日本で都市が形成されたのは、中国にならって都城を導入してからといえるでしょう。これは、天皇の居住地や政治の場である内裏^{だいり}を中心に、東西・南北に碁盤^{ごばん}の目のように敷かれた道路によって区画された計画都市で、飛鳥時代から平安時代にかけて(イ)藤原京・平城京・長岡京・平安京が造営されました。もちろん、この時代の都市はこれだけに限るわけではありません。(ウ)大陸・朝鮮半島の窓口となる大宰府、東北地方の政庁であり軍事基地である多賀城、そして各地に置かれた国府を中心に、地方にも都市が生まれました。そして、地方武士が力をつけてくると、その拠点も都市として発展していきました。奥州藤原氏が館を構えた(エ)平泉や、幕府が置かれた鎌倉などがそれにあたります。そのほかにも、(オ)交通の重要地点には市が立つなど、商業の中心地が都市化していきました。室町時代から戦国時代にかけては、大名の城や寺院・神社の周辺、(カ)街道の宿場などで都市が形成され、海運の発達により(キ)堺や博多などの港町も成長しました。これらの都市は江戸時代にも受け継がれていき、なかでも三都と呼ばれた江戸・大坂(大阪)・京都では政治・経済が著しく発展しました。これら前近代に形成された都市を基盤^{きばん}として、明治時代に入ると行政区画が整備されていきました。そして、(ク)関東大震災などの災害や太平洋戦争中の空襲^{くうしゅう}などにより度重なる大きな被害を受けながらも、東京を含む日本の主要都市は戦後に復興し、高度経済成長期には(ケ)東京オリンピックや万国博覧会^{かいぎかい}の開催などにもなってめざましい成長を遂げました。一方で、人口の一極集中や中央と地方の格差など、多くの問題も発生しています。地方都市を活性化していくことを含めて、いかに住みやすい都市を形成していくかが課題となっています。

問1. 下線部(ア)のような集落が作られたのはなぜですか、環濠集落がどのようなものかを含めて、25字以内で説明しなさい。

問2. 下線部(イ)について、それぞれの都が置かれていた時に起きた出来事の組み合わせとして、正しいものを次から一つ選び番号で答えなさい。

- | | |
|-----------------------------------|---------------------|
| 1. 藤原京 — 壬申の乱 | 2. 平城京 — 大宝律令の制定 |
| 3. 長岡京 — 藤原種継暗殺事件 ^{たねつぐ} | 4. 平安京 — 堀田永年私財法の発布 |

問3. 下線部(ウ)について説明した次の文のうち、正しいものを一つ選び番号で答えなさい。

1. 西国の海賊^{かいぞく}を率いた藤原純友は大宰府^{しゅうげき}を襲撃した。
2. 右大臣の菅原道真は藤原氏の陰謀^{いんぼう}によって多賀城^{させん}に左遷された。
3. 地方豪族から選ばれた国司が国府で政治を行った。
4. 地方の特産物を税として徴収^{ちようしゅう}する雑徭^{ぞうよう}は国府に納められた。

問4. 下線部(エ)について、平泉はユネスコの世界遺産に登録されていますが、次の建造物のうち世界遺産に登録されていないものはどれですか、一つ選び番号で答えなさい。

1. 富岡製糸場 2. 五稜郭 3. 厳島神社 4. 原爆ドーム 5. 姫路城

問5. 下線部(オ)について、鎌倉時代の商業と交通について説明した次の文のうち、正しいものを一つ選び番号で答えなさい。

1. 幕府のある鎌倉には、^{すざくおおじ}朱雀大路をはさんで東市・西市が置かれた。
2. 交通の便のよい場所には、物資を保管したり運んだりする間(問丸)が現れた。
3. 商工業者のなかには、株仲間と呼ばれる同業組合を結成するものも現れた。
4. 絵巻物から、月6回たてられた^{ろくさいいち}六斎市が^{いっぽんてき}一般的だったことがわかる。

問6. 下線部(カ)について、下の絵はある宿場町の風景を描いたものの一部です。この絵を含む、江戸時代の宿場町の風景を描いた一連の作品を何とといいますか、漢字で答えなさい。



問7. 下線部(キ)について、堺や博多と同じように港町として発展した町として、当てはまらないものを次から一つ選び番号で答えなさい。

1. 山形 2. 下関 3. 長崎 4. 新潟 5. 下田

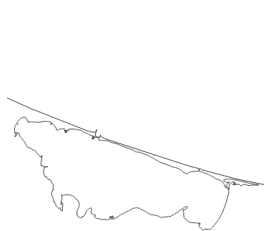
問8. 下線部(ク)について、関東大震災が起きた日にちなんで戦後に定められた^{けいはつび}啓発日(人々の意識を高め注意を^{うなが}促すための日)を何とといいますか、答えなさい。

問9. 下線部(ケ)について、この東京オリンピックが^{かいさい}開催された年よりも後に起こった出来事を、次からすべて選び番号で答えなさい。

1. サンフランシスコ平和条約が^{ていけつ}締結された。 2. 沖縄が^{へんかん}返還された。
3. 瀬戸大橋が完成した。 4. 教育基本法が制定された。
5. 日中平和友好条約が締結された。

2

下のあ～えは日本の面積上位4位までの湖です（ただし、図の縮尺は一定ではありません）。これらの湖やこれらが位置している道県および関連する事柄について、以下の問いに答えなさい。



あ



い



う



え

問1. あは、海岸近くにあるために、淡水と海水がまじりあった湖となっています。それと同じ特徴を持つ湖はどれですか、次から一つ選び番号で答えなさい。

1. 摩周湖 2. 中禅寺湖 3. 田沢湖 4. 諏訪湖 5. 宍道湖

問2. いは、面積669km²で、それが位置している県の総面積は4017km²です。いが県面積に占める割合として最も近いのはどれですか、次から選び番号で答えなさい。

1. 4分の1 2. 5分の1 3. 6分の1 4. 7分の1 5. 8分の1

問3. うを水源として日本海へと注ぎ、下流で四大公害病のうちの一つを引き起こした河川を何といいますか、名称を漢字で答えなさい。

問4. 下の地形図はえの湖畔です。ここにある地図記号「**||**」で示された場所では、稲とは異なる作物が栽培されています。この地図記号は正確には水の張った農地を示すもので、例えばわさびの生産地もわさび田と呼ばれ、この地図記号を使っています。そのことを踏まえ、この地域で栽培されている作物として、適当なものを下から一つ選び番号で答えなさい。



国土地理院 地理院地図より作成

1. じゃがいも 2. 蓮根 3. 長芋 4. 大根 5. にんじん

問5. 下の文は、あ～えがある四つの道県のうちの一つでつくられる、ある伝統工芸品について説明したものです。その伝統工芸品は何ですか、ひらがなで答えなさい。

「鎌倉時代以前より^{けいぞく}継続している古い^{かま}窯でつくられ、特に^{たぬき}狸の焼き物が有名である。」

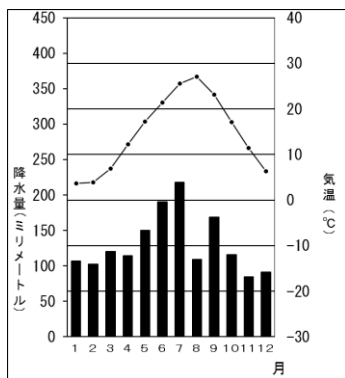
問6. あ～えがある四つの道県は畜産が盛んです。この四つの道県が1位ではない項目（生乳は2016年、他は2017年）を、次から一つ選び番号で答えなさい。

1. 肉用牛の飼育頭数 2. 生乳の生産量 3. 豚の飼育頭数 4. ^{けいらん}鶏卵の生産量

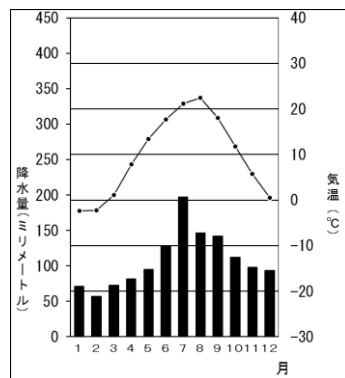
問7. あ～えのある四つの道県の市町村別の人口を調べると、うの位置している県のみ県庁所在地が県内で人口の最多の市ではありません。同様に、県庁所在地が県の人口1位の市ではない県（2018年）を、次から一つ選び番号で答えなさい。

1. 群馬県 2. 宮城県 3. 長野県 4. 兵庫県 5. 鹿児島県

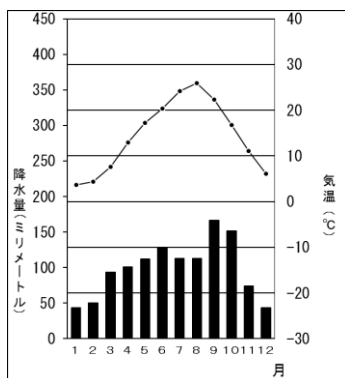
問8. 下の雨温図は、あ～えに面する四つの市や町の、各月の平均気温と平均降水量を示したものです。あに面する市（または町）の雨温図としてあてはまるものを、下から一つ選び番号で答えなさい。（雨温図は気象庁ホームページのデータから作成。観測期間は1981年～2010年。）



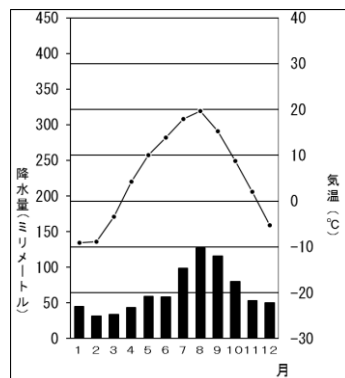
1



2



3



4

3

次の文章を読んで問いに答えなさい。

昨年7月、日本は商業捕鯨を再開しました。日本では古くから捕鯨が行われ、江戸時代には土佐や紀伊で捕鯨が盛んで「一頭捕れば七浦潤う」といわれるほど、その利益は大きいものでありました。世界的にみてもかつては活発に捕られていましたが、乱獲による鯨の数の減少などから捕鯨の見直しが検討されるようになりました。1946年には捕鯨国が集まって取締条約が採択され、翌々年 I W C (国際捕鯨委員会) が設立されました。これは、乱獲を防ぐため捕鯨国で国際ルールを作ることを目的とした機関ですが、(ア) 環境保護や生物保護 の観点から捕鯨そのものを禁止しようと主張する国が現れ、次第に多数を占めるようになりました。そして、1982年に I W C で商業捕鯨モラトリアムが採択され、商業捕鯨が一時禁止され、(イ) 捕鯨のみが認められました。日本はこれに従い、(イ) 捕鯨を続け、科学的な根拠に基づいて商業捕鯨が可能なことを国際社会に訴えてきました。しかし、日本の主張は受け入れられず、環境保護団体による(イ) 捕鯨の妨害にもあい、オーストラリアからは「南極海における日本の(イ) 捕鯨は事実上の商業捕鯨である」と(ウ) に訴えられました。これについて、(エ) 裁判 で争われましたが、2014年に(ウ) で日本敗訴の判決が下りました。その後、商業捕鯨を認めてもらうことが難しいと判断したことから、一昨年の12月に日本は I W C の脱退を宣言しました。こうして日本は商業捕鯨を再開したのですが、今後の道のりは容易ではありません。「捕鯨は日本の文化」との立場であり、政府は(オ) 漁業者の(カ) 生活保護 のためもあって、商業捕鯨再開を悲願としていました。しかし、商業捕鯨を中断していた30年以上の間に国内での鯨の需要は減っており、商業として成り立つのか疑問が持たれています。また、I W C を脱退したことで国際的非難を受けることを心配するむきもあります。さらに、今回の決定は(キ) 政府主導であり、国会でのより踏み込んだ議論 や、(ク) 審議会 などでの議論が尽くされていないとの声も聞かれます。グローバル化が進むなか、世界的視野と国内の声の双方にどのように応えていくのか、今後の課題になっていくでしょう。

問1. 下線部(ア)について、環境保護や生物保護について説明した次の文のうち、あやまっているものを一つ選び番号で答えなさい。

1. 優れた自然環境を国民の財産として保護するため、環境大臣が指定する自然公園を国立公園という。
2. 日本でも、環境対策として地球温暖化対策税などがすでに導入されている。
3. 将来の世代のために再生可能な範囲で資源を利用する「持続可能な開発」が、リオデジャネイロで開かれた国連環境開発会議で採択された。
4. 水鳥をはじめとした多くの生物がすむ湿地を国際的に登録して保護するために、ワシントン条約が締結された。

問2. 空らん(イ)にあてはまる語句を漢字2字で答えなさい。

問3. 空らん(ウ)にあてはまる国際機関を漢字で答えなさい。

問4. 下線部(エ)について、日本の司法制度について説明した次の文のうち、正しいものを一つ選び番号で答えなさい。

1. 司法権が独立していることから、裁判官は心身の故障以外、やめさせられることはない。
2. 裁判の慎重^{しんちよう}を期^きすため三審制^{さんしんせい}をとり、必ず最高裁判所の判断をあおぐことになっている。
3. 裁判員が関わるのは、刑事裁判ではなくより国民に身近な民事裁判の方である。
4. 国民は裁判所において公開の裁判を受ける権利を持っている。

問5. 下線部(オ)について、日本では近年魚介類^{ぎょかいりゅう}の輸入が増加しています。右の表は、ある魚介類を日本が輸入する際の相手国と輸入額、そして輸入全体に対する割合を示したもの（2017年）です。この魚介類として正しいものを次から一つ選び番号で答えなさい。

輸入相手国	輸入額(億円)	割合(%)
ベトナム	483	21.9
インド	383	17.4
インドネシア	317	14.4
アルゼンチン	204	9.2

『データブック オブ・ザ・ワールド2019』から作成

1. さけ・ます
2. えび
3. まぐろ
4. いか
5. かじ

問6. 下線部(カ)は基本的人権に関連することですが、日本国憲法に規定されている基本的人権について説明した次の文のうち、**あやまっているもの**を一つ選び番号で答えなさい。

1. 憲法が保障する基本的人権は、**侵すことのできない**永久の権利である。
2. 憲法が保障する権利は、自由獲得^{かくとく}の努力の成果であって、過去、幾多^{いくた}の試練^たに耐えたものがあり、国民の不斷の努力によって保持しなければならない。
3. 生命・自由・幸福追求の権利は、立法その他の国政の上でいかなる場合も最大の尊重をされなければならない。
4. すべて国民は健康で文化的な最低限度の生活を営む権利を有する。

問7. 下線部(キ)に関連して、政府（内閣）と国会の関係について説明した次の文のうち、**あやまっているもの**を一つ選び番号で答えなさい。

1. 内閣総理大臣の指名が衆議院・参議院で異なった場合、両院協議会を開かなければならない。
2. 国務大臣の3分の2以上は国会議員から選ばなければならない。
3. 衆議院で内閣不信任決議案が可決された場合、内閣は総辞職するか、衆議院を解散しなければならない。
4. 参議院は内閣総理大臣や国務大臣に対して問責決議をすることができる。

問8. 下線部(ク)について説明した次の文のうち、正しいものを一つ選び番号で答えなさい。

1. 行政機関などに必要に応じて設けられる合議制^{しもん}の諮問機関。
2. 国会の委員会審議^{しんぎ}で、利害関係のある人や学者・専門家を招いて意見を聴く会。
3. 衆議院の解散中に国会の審議が必要になった時に召集^{しょうしゅう}される会。
4. 衆議院・参議院いずれかの総議員の4分の1以上の要求があった場合に召集される合議機関。

2020年度 豊島岡女子学園中学校入学試験
社会解答用紙（3回）

*印のらんには書かないこと

1	問 1											
	問 2	問 3	問 4	問 5	問 6							
	問 7	問 8					問 9					

2	問 1	問 2	問 3			問 4
	問 5			問 6	問 7	問 8

3	問 1	問 2		問 3			問 4
	問 5	問 6	問 7	問 8			

座席 番号	—					氏 名		得 点	*
受験 番号	1	3							

2020年度 豊島岡女子学園中学校入学試験
社会解答用紙（3回）

*印のらんには書かないこと

1	問 1												
	周	囲	に	濠	を	め	ぐ	ら	せ	た	集	落	で
	外	敵	の	侵	入	を	防	ぐ	た	め	。		
	問 2		問 3		問 4		問 5		問 6				
	3		1		2		2		東海道五十三次				
	問 7		問 8					問 9					
	1		防 災 の 日					2 ・ 3 ・ 5					

各2点

2	問 1	問 2	問 3		問 4
	5	3	阿 賀 野 川		2
	問 5		問 6	問 7	問 8
	しがらきやき		3	1	4

各2点

3	問 1	問 2		問 3		問 4
	4	調 査		国際司法裁判所		4
	問 5	問 6	問 7	問 8		
	2	3	2	1		

各2点

座席 番号	—					氏 名		得 点	*
受験 番号	1	3							