

2020年度

豊島岡女子学園中学校

入学試験問題

(2回)

社 会

注意事項

1. 合図があるまで、この冊子を開いてはいけません。
2. 問題は から 、2ページから7ページまであります。
合図があったら確認してください。
3. 解答は、すべて指示に従って解答らんに記入してください。
4. 解答用紙は理科と区別するために、うすい水色になっています。

1 次の文章を読んで問いに答えなさい。

皆さんは、(ア)札(券)を使ったことがありますか。現在でも利用することはできますが、2003年度を最後に製造していないので、世の中に流通している量は減少しています。ただし、沖縄県では逆に増えているそうです。それは、この県で開かれたサミットに合わせて発行され、紙幣の表面に(イ)城の守礼門が描かれているなど、この紙幣と沖縄とのゆかりが深いためだと考えられています。

昨年4月に、2024年をめどに紙幣のデザインを変更することが発表されました。表面には人物が描かれる予定で、一万円札は(ウ)日本の資本主義の基礎を築いた渋沢栄一、五千円札は女子英学塾をつくった(エ)津田梅子、千円札は(オ)医学者の北里柴三郎が描かれます。さらに、傾けると肖像が立体的に浮かび上がる3Dホログラムを世界で最初に採用することです。

裏面にもさまざまな図柄が描かれるとのことで、千円札には(カ)浮世絵「富嶽三十六景」の神奈川沖浪裏が採用されます。ちなみに(ア)札の裏面は(キ)「源氏物語絵巻」の一場面と、その作者である紫式部が描かれています。

過去には、どのような人物が紙幣に描かれたのでしょうか。一番古いものは1885年発行の壹円券で、人物ではなく大黒天が描かれていました。それから武内宿禰という(ク)仁徳天皇などに仕えたとされる人物の肖像が描かれた壹円券と続きます。その後の紙幣のデザインで多く扱われた人物には、和氣清麻呂や聖徳太子などがいます。珍しいものでは、(ケ)1944年に発行された小額の額面の五銭券には、新田義貞らとともに後醍醐天皇に最後まで忠誠を尽くした(コ)が描かれていました。

最近キャッシュレスが叫ばれるようになり、紙幣を使用する機会は今後少なくなっていくかも知れませんが、だからこその時期に、紙幣について知っておくのも面白いのではないのでしょうか。

問1. 空らん(ア)にあてはまる語句を、漢字で答えなさい。

問2. 空らん(イ)にあてはまる語句を、漢字で答えなさい。

問3. 下線部(ウ)に関連して、近代日本の産業の発展について説明した次のあ・いの文が、正しい(○)かあやまっている(×)かの組み合わせとして、正しいものを下から選び番号で答えなさい。

あ. 生糸はおもに朝鮮や中国に輸出され、20世紀初めには日本の生糸輸出額は世界一になった。

い. 朝鮮戦争の特需によって日本経済は復興し、成金と呼ばれる財閥が多く登場した。

1. あ○ い○ 2. あ○ い× 3. あ× い○ 4. あ× い×

問4. 下線部(エ)について、津田梅子は欧米に派遣された使節団に留学生として同行しましたが、その使節団の代表は誰ですか、氏名を漢字で答えなさい。

問5. 下線部(オ)について、医学や病気の歴史について説明した次の文のうち、正しいものを一つ選び番号で答えなさい。

1. 聖武天皇の時代に天然痘が流行したため、聖武天皇は長岡京に都を遷した。

2. 遣唐使が廃止されると、勘合貿易が始まるまで中国からの医学書や薬品の流入はとだえた。

3. シーボルトは鳴滝塾^{なるたきじゅく}で医学を教え、高野長英などの弟子を育てた。

4. 北里柴三郎や志賀潔は、アメリカ人のクラークから医学を学んだ。

問6. 下線部(カ)について、この浮世絵が描かれるよりも年代の古い出来事を、次から**すべて**選び番号で答えなさい。

1. 桜田門外の変が起こった。
2. シャクシャインが松前藩に対して蜂起^{ほうき}した。
3. 徳川綱吉が生類憐みの令を出した。
4. 日米和親条約が結ばれた。
5. 松尾芭蕉が『奥の細道』を著した。

問7. 下線部(キ)について、『源氏物語』が書かれた平安時代の次の出来事を、年代の古い順に並べ番号で答えなさい。

1. 大輪田泊が整備された。
2. 坂上田村麻呂が蝦夷を討った。
3. 前九年合戦が起こった。
4. 藤原良房が臣下で初の摂政となった。

問8. 下線部(ク)について、この天皇の在位時代は、『古事記』や『日本書紀』をもとにすると古墳時代にあたりと考えられています。古墳や古墳時代の状況^{じょうきょう}について説明した次の文のうち、**あやまっているもの**を一つ選び番号で答えなさい。

1. 埼玉県の稲荷山古墳から、漢字が刻まれた鉄剣が発見された。
2. 仁徳天皇の墓と考えられている古墳は、昨年世界遺産に登録された。
3. 有力者のなきがらは古墳内部のかめ棺^{かん}に納められ、銅鏡や土偶などが副葬^{ふくそう}された。
4. 庶民は竪穴^{たてあな}住居などに暮らしており、鉄製の農具も使われていた。

問9. 下線部(ケ)について、この時期に、なぜこのような小額のお金(貨幣)^{かへい}が、硬貨ではなく紙幣^{しへい}で発行されたのですか、15字程度で答えなさい。

問10. 空らん(コ)にあてはまる人物の氏名を、漢字で答えなさい。

2 次の各問いに答えなさい。

問1. 次の表は、秋田県・岩手県・香川県・東京都の、小麦の収穫量と、小麦の収穫量を1としたときの水稲の収穫量の割合(2017年)です。このうち香川県にあたるものを、**1～4**から選び番号で答えなさい。

	1	2	3	4
小麦の収穫量(トン)	8160	6480	774	58
小麦の収穫量を1としたときの 水稲収穫量の割合	32.5	9.6	644.4	10.0

『データでみる県勢2019』より作成

問2. 次の表は、日本の製造品出荷額(億円：2016年)の上位5都市を示したものです。あ～うの都市の組み合わせとして、正しいものを下の表の1～6から選び番号で答えなさい。

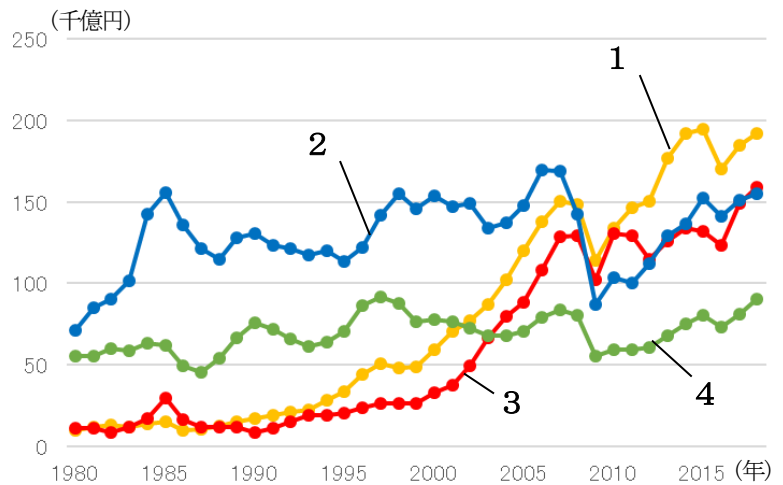
	製造品 出荷額	石油製品・ 石炭製品製造業	鉄鋼業	金属製品 製造業	輸送用機械器具 製造業
あ	142463	133	270	912	133926
横浜市	37143	8798	550	1571	4980
い	35938	8867	3747	646	5122
市原市	35930	17826	134	825	538
う	35578	101	3615	3606	1455

『データブックオブザワールド2019』より作成

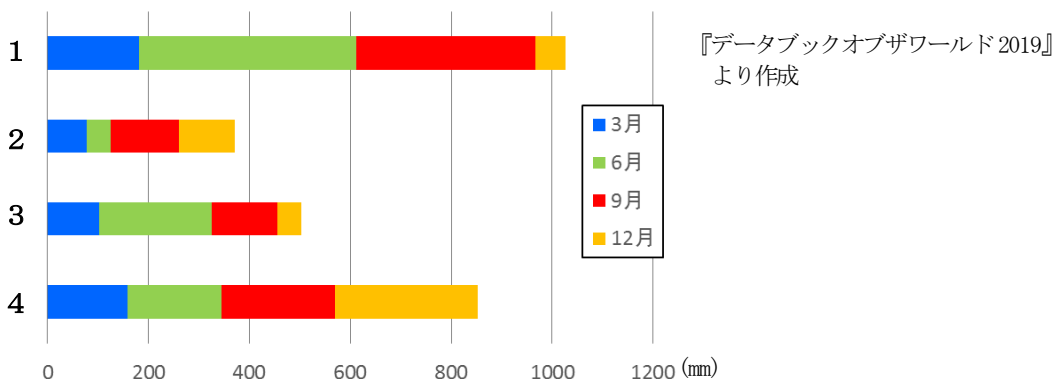
	1	2	3	4	5	6
あ	大阪市	大阪市	川崎市	川崎市	豊田市	豊田市
い	川崎市	豊田市	大阪市	豊田市	大阪市	川崎市
う	豊田市	川崎市	豊田市	大阪市	川崎市	大阪市

問3. 次のグラフは、日本とアメリカ合衆国・中国との貿易額の推移を示したものです。図中の1～4は、アメリカ合衆国への輸出額、アメリカ合衆国からの輸入額、中国への輸出額、中国からの輸入額のいずれかです。このうち、アメリカ合衆国への輸出額にあたるものを選び番号で答えなさい。

『財務省貿易統計』より作成



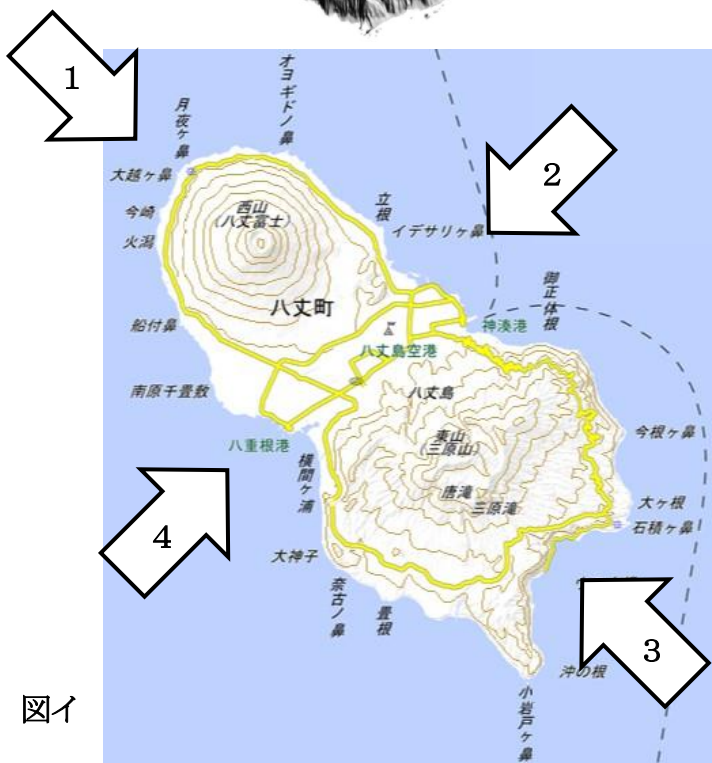
問4. 次のグラフは、札幌市・金沢市・松山市・宮崎市の、3月・6月・9月・12月の降水量を足したものです。このうち、松山市にあたるものを1～4から選び番号で答えなさい。



『データブックオブザワールド2019』より作成

問5. 次の図アは、図イの島を1～4のいずれかの方向から眺めた図です(なお、図アは高さを2倍に拡大しています)。図アのような地形の様子がみられる方向として、正しいものを図イの1～4から選び番号で答えなさい。

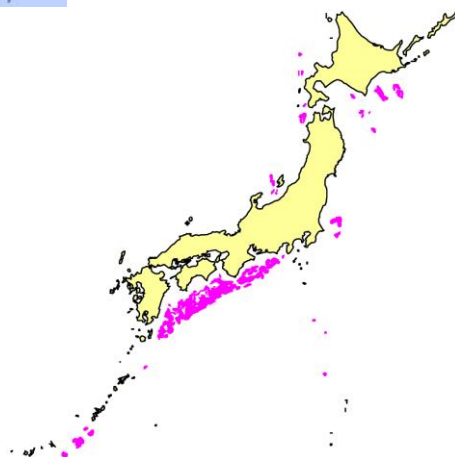
図ア



図イ

「国土地理院 地理院地図」
ホームページより作成

問6. 右の図は、「燃える氷」とも呼ばれている「□□□ハイドレート」の、2000年時点での日本周辺の分布を示しています。「□□□」にあてはまる語句を、カタカナ3字で答えなさい。



「MH21Research Consortium」ホームページより作成

3

次の文章を読んで問いに答えなさい。

私たちの生活にはルールが欠かせません。国家には(ア)憲法や(イ)法律というルールがあり、(ウ)地方公共団体には条例というルールがあります。学校にも校則というルールがあります。(エ)社会の中でルールを整え、安心・安全な社会を創り上げるのが政府の役割です。しかし、ルールを整えるのは簡単なことではありません。

昨年は、マスメディアで高齢者による(オ)交通事故が多数取り上げられました。(カ)少子高齢化の進む日本では、この問題は今後ますます重要になると考えられます。そこで、高齢者による交通事故を減らすために運転免許証の返納をルールとするとします。そうすれば、解決の糸口になるかもしれません。しかし、(キ)交通の便が良くなく、車が日常生活に密接に関連している地域では、返納が難しい場合もあります。また、返納によって、家族が送り迎えをしなくてはいけなくなり、負担が増えてしまうという声もあります。ルールを整える際には、ルールを整えることによって逆に不利益を被る人が出てくる可能性まで考えなければいけません。

では、高齢者による交通事故の問題を解決するために、他にどのような方法があるのでしょうか。現在、人間の不注意などによる交通事故を減らしていくため、様々な企業が自動運転技術の開発に取り組んでいます。政府は今夏の東京オリンピックに向けて、自動運転技術を用いたバスやタクシーなどの実用化を目指しています。しかし、国内では自動運転システムを導入した電車による事故が、海外では自動運転車による事故が報告されているなど、まだまだ課題が山積しています。また、免許証の返納による家族の負担という観点からは、(ク)社会福祉のより一層の拡充が求められます。(ケ)高齢者も若者と同じように暮らせるノーマライゼーションの考え方がより重要になっていくでしょう。

ルールだけではよりよい社会は築けません。他の人を思いやること、気遣うことなど、道徳心があるからこそ、人々は気持ちよく生活をしていくことができます。社会の課題を解決するためには、ただ禁止するルール作りだけでなく、企業の協力や、社会の仕組みの在り方を考える必要があるのです。

問1. 下線部(ア)について、日本国憲法について説明した次のあ～えの文のうち、正しいものの組み合わせを、下の1～6から選び番号で答えなさい。

- あ. 国会の召集や衆議院の解散は、天皇が行う行為であると定められている。
 い. 憲法の改正における国民投票では、18歳以上の日本国民が投票権を持つ。
 う. 公共の福祉という点から、すべての労働者はストライキを行うことが禁止されている。
 え. 社会の変化によって、新しい人権を保障した条文が日本国憲法に追加された。

1. あ・い 2. あ・う 3. あ・え 4. い・う 5. い・え 6. う・え

問2. 下線部(イ)について、日本において法律を作るのは国会ですが、日本の国会や国会議員について説明した次の文のうち、正しいものを一つ選び番号で答えなさい。

1. 国会で議決される法律案は、内閣が作成することもできる。
 2. 国会は「国権の最高機関」であるため、内閣や裁判所に対して優越する。

3. 国会議員は、いずれかの政党に所属した者でなければならない。
4. 国会の仕事には、内閣の結ぶ条約の承認や予算案の作成も含まれる。

問3. 下線部(ウ)について、地方自治において、住民が地方公共団体に対して持つ権利として**適切でないもの**を、次から**すべて**選び番号で答えなさい。

1. 首長の個人情報の開示を求める。
2. 首長や地方議会の議員の解職を求める。
3. 条例の制定や改正、^{はいし}廃止を求める。
4. 地方議会に予算案を提出する。
5. 地方議会の解散を求める。

問4. 下線部(エ)に関連して、現在、政府の「働き方改革」で長時間労働の見直しが進められていますが、現行の労働基準法第32条で1週間に何時間を超えて労働させてはならないと定められていますか、算用数字で答えなさい。

問5. 下線部(オ)について、交通事故を起こせば裁判になる可能性もありますが、少額の^{そしょう}訴訟や、^{けいび}軽微な犯罪を処理する裁判所を一般に何といいますか、漢字で答えなさい。

問6. 下線部(カ)について、少子化対策の一つとして、^{ようちえん}幼稚園と保育所の一元化を図るために、2006年から始められた子育て^{しえんしせつ}支援施設のことを何といいますか、答えなさい。

問7. 下線部(キ)について、右の表は、日本の国内旅客における輸送人数と輸送距離ののべ数(2016年)を示したものです。**あ～う**の組み合わせとして、正しいものを下の表の**1～6**から選び番号で答えなさい。

	輸送人数 (百万人)	輸送距離 (百万人キロ)
あ	24598	431799
い	68270	891476
う	98	90689

『日本国勢図会 2018/19』より作成

	1	2	3	4	5	6
あ	航空機	航空機	自動車	自動車	鉄道	鉄道
い	自動車	鉄道	航空機	鉄道	航空機	自動車
う	鉄道	自動車	鉄道	航空機	自動車	航空機

問8. 下線部(ク)について、^{ふくし}社会福祉を含む日本の社会保障制度について説明した次の文のうち、**あやまっているもの**を一つ選び番号で答えなさい。

1. 日本国憲法の第25条で定められている生存権の保障に基づいている。
2. 社会福祉に加えて、社会保険・^{ふじよ}公的扶助・公衆衛生の4つを柱としている。
3. 現在の日本では、国民は何らかの公的な健康保険に加入する義務がある。
4. 2019年度一般会計予算(歳出)では、社会保障関係費は^{こくさい}国債費に次いで2番目に多くなっている。

問9. 下線部(ケ)について、そのような社会を実現するために、歩道の段差をなくしたり、階段にスロープをつけたりするなど、障がい者や高齢者らが生活していく上での支障をなくしていくことを何といいますか、カタカナで答えなさい。

2020 年度 豊島岡女子学園中学校入学試験
社会解答用紙（2回）

*印のらんには書かないこと

1	問 1	問 2	問 3	問 4
	問 5	問 6		問 7
				→ → →
	問 8	問 9		問 10

2	問 1	問 2	問 3	問 4	問 5	問 6

3	問 1	問 2	問 3		問 4	
					時間	
	問 5		問 6		問 7	
	問 8	問 9				

座席 番号	—	氏 名			
受験 番号	1 2				

得 点	*
--------	---

2020 年度 豊島岡女子学園中学校入学試験
社会解答用紙（2回）

*印のらんには書かないこと

1	問 1	問 2	問 3	問 4
	二 千 円	首 里	4	岩 倉 具 視
	問 5	問 6	問 7	
	3	2・3・5	2 → 4 → 3 → 1	
	問 8	問 9	問 10	
	3	戦 時 中 で 金 属 が 不 足 した から。	楠 木 正 成	

各2点

2	問 1	問 2	問 3	問 4	問 5	問 6
	2	6	2	3	2	メ タ ン

各2点

3	問 1	問 2	問 3	問 4
	1	1	1・4	40 時間
	問 5		問 6	問 7
	簡 易 裁 判 所		認 定 こ ど も 園	6
	問 8	問 9	各2点	
	4	バ リ ア フ リ ー		

各2点

座席 番号	—					氏 名
受験 番号	1	2				

得 点	*
--------	---