

2019年度

豊島岡女子学園中学校

入学試験問題

(3回)

社 会

注意事項

1. 合図があるまで、この冊子を開いてはいけません。
2. 問題は から 、2ページから7ページまであります。
合図があったら確認してください。
3. 解答は、すべて指示に従って解答らんに記入してください。
4. 解答用紙は理科と区別するために、うすい水色になっています。

1 次の文章を読んで問いに答えなさい。

南半球にあるニュージーランドは、羊の多い国として有名ですが、昨年、この国の女性(ア)首相であるジャシンダ・アーダーンさんが出産し、その後、6週間の休業を取りました。その間の職務は副首相が代行し、(イ)産休後はパートナー(日本でいう夫、配偶者にあたる)が主に育児を担ったそうです。ニュージーランドには家庭を大切にする価値観と女性が社会にでるのは当たり前という感覚が根付いています。(ウ)1893年に世界で初めて女性参政権が認められた国であり、国会議員の約4割が女性であるということもその背景の一つとなっているのでしょう。

ニュージーランドの政体は立憲君主政です。国王はイギリス国王と同一人物で、国王によって任命された総督が(エ)国王の仕事を代行します。この総督や(オ)三権の長の一つである首席判事も女性が就任したことがありました。こうした政治を生みだしている(カ)選挙制度は、小選挙区比例代表併用制を採用しています。投票は18歳以上のニュージーランド国籍保有者とニュージーランド永住権保有者によって行われます。また、大きな特色として先住民のための特別な選挙区として(キ)マオリ選挙区を設けており、女性や少数者に配慮した政治姿勢が感じられます。

ニュージーランドには「キウイハズバンド」という言葉があります。それは、家の仕事をよくやる夫を意味します。「キウイ」とはニュージーランドの(ク)国鳥で、メスの生んだ卵をオスが温めることなどから、家事や子育てに熱心な男性を言うようになりました。また、その鳥の体形から、名産である「キウイフルーツ」の言葉も生まれました。ニュージーランドに限らず、世界の国からも日本が見習うべき点が多くあります。皆さんも、世界のいろいろな国の見習うべき長所を勉強して、将来、日本がより良い国になるように生かしてくれればいいと思います。

問1. 下線部(ア)について、日本の首相について説明した次の文のうち、あやまっているものを一つ選び番号で答えなさい。

1. 天皇によって任命される。
2. 国務大臣を任免する権限を持つ。
3. 国民の投票によって指名される。
4. 文民でなくてはならない。

問2. 下線部(イ)について、日本の産休や育休について説明した次の文のうち、最も適切なものを一つ選び番号で答えなさい。

1. 正社員でないと産休や育休はとれない。
2. 企業は、出産直後の女性の就業を強制できない。
3. 産休中、企業は給料を支払う義務がある。
4. 育休は、出産した本人しかとることができない。

問3. 下線部(ウ)に関連して、日本における、参政権をはじめとする女性の権利について説明した次のあ・いの文が、正しい(O)かあやまっている(X)かの組み合わせとして、正しいものを下から選び番号で答えなさい。

あ. 国際連合で女性差別撤廃条約が結ばれたことに基づき、日本国憲法に両性の本質的平等について定めた条文が追加された。

い. 男女雇用機会均等法が改正され、新たに男女共同参画社会基本法として成立した。

1. あ.○ い.○ 2. あ.○ い.× 3. あ.× い.○ 4. あ.× い.×

問4. 下線部(エ)に関連して、日本国憲法第7条では、天皇の国事行為の一つとして、「(え)、法律、政令及び条約を公布すること。」と定められています。空らん(え)にあてはまる語句を、漢字4字で答えなさい。

問5. 下線部(オ)について、日本の三権分立について説明した次の文のうち、正しいものを一つ選び番号で答えなさい。

1. 衆議院と参議院は、ともに内閣不信任決議を行うことができる。
2. 内閣は、最高裁判所の裁判官がふさわしいかを、10年ごとに審査することができる。
3. 最高裁判所は、国会議員を裁くための弾劾裁判所を開くことができる。
4. 下級裁判所は、国会で制定した法律が憲法に違反しているかを審査することができる。

問6. 下線部(カ)について、日本の選挙制度について説明した次のあ～えの文のうち、正しいものの組み合わせを、下の1～6から一つ選び番号で答えなさい。

あ. 現在の日本の選挙には、間接選挙や公開選挙といった、四つの原則がある。

い. 衆議院議員選挙では、選挙区の候補者と比例区の政党に各1票ずつ投票する。

う. 参議院議員は、3年ごとに議員の半数が改選される。

え. 年齢によって投票率が異なっている「一票の格差」が問題となっている。

1. あ・い 2. あ・う 3. あ・え 4. い・う 5. い・え 6. う・え

問7. 下線部(キ)について、マオリはニュージーランドの先住民のことですが、オーストラリアの先住民を何といいますか、カタカナで答えなさい。

問8. 下線部(ク)について、日本の国鳥で、岡山県の「県民の鳥」ともされている鳥は何ですか、カタカナで答えなさい。

2 次の文章を読んで問いに答えなさい。

私たちの生活には水が欠かせません。(ア) 水はさまざまな恵みを私たちにもたらしてくれます。雨として地表に降った水は、地下に流れ込んだり川を流れたりすることで、基本的には海に向かっていきます。そして、(イ) 海から水蒸気となり雲を作り、再び雨として地表に降る、という流れで絶えず地球上を循環しています。

その中で、ここでは川による水の流れに注目していきましょう。次の【あ】から【え】の文章は、日本国内にあるいずれかの一級河川の説明をしたものです。

[あ] この川は、①流域にある県庁所在地から世界遺産に登録されている都市周辺までは、(ウ)新幹線と並行して流れています。洪水防止のために明治時代に流路が変更されました。旧流路と新流路いずれの河口域でも、2011年の東日本大震災では大きな被害を受けました。

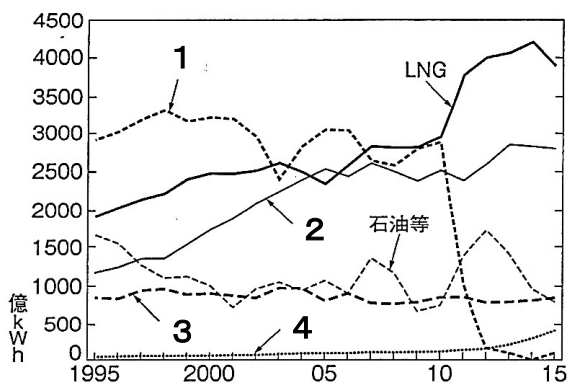
[い] この川は、赤石山脈と木曾山脈にはさまれる地域を流れています。下流の付近には、徳川家康が武田信玄に敗れた古戦場もあります。また、②河口付近の右岸の都市は、ピアノの生産地としても有名です。

[う] この川の水源は、日本最大の面積を持つ湖です。流域によりいくつかの異なる名称があり、③河口部にある大都市は(エ)政令指定都市で、区の名前にもこの河川の名称が用いられています。

[え] この川は、日本で最も広い平野である関東平野を流れています。この川の流域面積は日本最大で、流路の長さは信濃川に次いで2番目の長さです。この川の下流に広がる低湿地である水郷では稲作が盛んで、この川の水は生活用水や工業用水としても大量に取水されます。

私たちは川から恵みを受ける一方で(オ)災いも受けます。また(カ)利用の仕方によって大きな地域問題を引き起こすこともあります。川とうまく付き合っていくためには何が必要か、皆さんも考えてほしいと思います。

問1. 下線部(ア)について、水力による発電も水がもたらす恵みの一つと言えます。右のグラフは日本の発電源別の発電電力量の推移を示したものです。グラフ中の1～4は石炭、原子力、水力、地熱・新エネルギーのいずれかです。このうち、水力を示すものを選び番号で答えなさい。



(『日本国勢図会2017/18』)

問2. 下線部(イ)について、右の表は、岡山市、富山市、那覇市の、1月の降水量、8月の降水量、年間降水量(mm)を示したものです。あ～うの組み合わせとして正しいものを、下の表の1～6から一つ選び番号で答えなさい。

	1月降水量	8月降水量	年間降水量
あ	259.5	168.3	2300.0
い	34.2	87.4	1105.9
う	107.0	240.5	2040.8

(『データブックオブザワールド2018』より作成)

	1	2	3	4	5	6
あ	岡山市	岡山市	富山市	富山市	那覇市	那覇市
い	富山市	那覇市	岡山市	那覇市	岡山市	富山市
う	那覇市	富山市	那覇市	岡山市	富山市	岡山市

問3. 下線部(ウ)について、新幹線が通っている海峡^{かいきょう}として、正しいものを次からすべて選び番号で答えなさい。

1. 明石海峡 2. 関門海峡 3. 宗谷海峡 4. 津軽海峡 5. 鳴門海峡

問4. 下線部(エ)について、右の表は、政令指定都市である新潟市、堺市、福岡市の人口増減率(マイナスは減少を表す)(2017年)、昼夜間人口比率(昼間の人口÷夜間の人口×100)(2015年)、製造品出荷額(2014年)を示したものです。あ～うの組み合わせとして正しいものを、下の表の1～6から一つ選び番号で答えなさい。

	人口増減率(%)	昼夜間人口比率	製造品出荷額(億円)
あ	-0.23	93.6	38,213
い	-0.35	101.5	11,221
う	0.93	110.8	6,365

(『データブックオブザワールド2018』
『データでみる県勢2018』より作成)

	1	2	3	4	5	6
あ	堺市	堺市	新潟市	新潟市	福岡市	福岡市
い	新潟市	福岡市	堺市	福岡市	堺市	新潟市
う	福岡市	新潟市	福岡市	堺市	新潟市	堺市

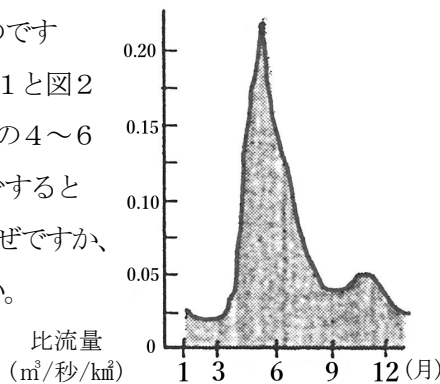
問5. 下線部(オ)について、水害をはじめとする自然災害^{ひがい}の被害を予測して、被災時の避難場所^{ひなん}や避難経路などを示した地図を何とといいますか、カタカナで答えなさい。

問6. 下線部(カ)について、阿賀野川流域で発生し、1960年代に公式に確認された公害病を何とといいますか、漢字で答えなさい。

問7. 下線部①～③の都市の組み合わせとして、正しいものを次から一つ選び番号で答えなさい。

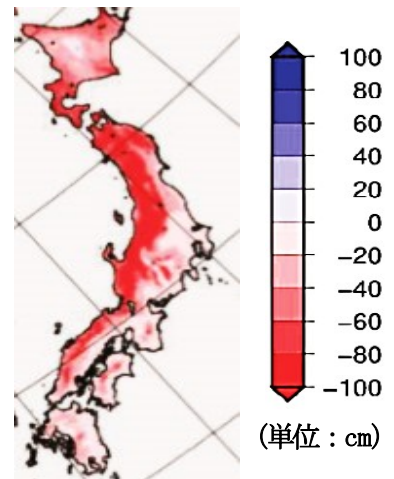
1. ①—仙台 ②—静岡 ③—京都 2. ①—福島 ②—静岡 ③—神戸
 3. ①—仙台 ②—浜松 ③—京都 4. ①—福島 ②—名古屋 ③—大阪
 5. ①—盛岡 ②—浜松 ③—大阪 6. ①—盛岡 ②—名古屋 ③—神戸

問8. 次の図1は、[え]の川の上流における比流量(流域面積あたりの流量)のグラフで、図2は21世紀末の年最深積雪の増減の予測を分布図で示したものです(マイナスは減少を表す)。図1と図2を参考にとすると、この川の4～6月の流量は将来的に減少すると考えられます。それはなぜですか、20字程度で説明しなさい。



(『新版 日本の自然3 日本の川』
岩波書店より作成)

図1



(『地球温暖化予測情報 第9巻』
気象庁より作成)

図2

3 次の文章を読んで問いに答えなさい。

1949年、世界最古の木造建築といわれる法隆寺で、金堂の壁画が焼損しました。これをきっかけとして制定された法律が文化財保護法です。この法律により文化財は有形・無形・民俗文化財や記念物、文景観などに分けられ、その保存や活用がはかられることになりました。

この法律にもとづき、東京都は東京都指定文化財を指定してきました。2018年には新たに三つがこれに加わりました。一つ目は、有形文化財(建造物)で、現在の板橋区にある(ア)「旧粕谷家住宅」です。この古民家が大変貴重なのは、柱に「享保八年」と記されていたことから、建築年代がわかったことにあります。これを建てたのは、この地域の名主を務めた粕谷五郎右衛門です。彼は隠居後、1732年(享保17年)に亡くなるまでここに住みました。当時の豊かな農村風景を想像させる文化財です。

二つ目は、有形民俗文化財として現在の福生市にある「熊川の南稲荷講膳椀及び膳椀倉」が指定されました。昔は結婚式やお葬式は自宅で行いました。しかし、使用するたくさんのお椀やお膳は個人では持っていませんので、村(ここでは神社)の共有財産として倉に多くの食器を保管していたのです。昔はこうしたお互いに助け合う様々な仕組みが整っていたようです。(イ)南稲荷神社の初午行事では現在も膳椀の一部が使用されています。

最後は、史跡として登録された調布市布田にある「狐塚古墳」です。この古墳は(ウ)出土品などから(エ)6世紀末から7世紀初めにかけてつくられた都内でも最大規模の円墳です。この地域の支配者の古墳は多摩川下流域に集中していたようですが、8世紀になると府中に(オ)国の国府がおかれ、多摩川中流域が行政の中心になっていきます。狐塚古墳は、この地域の古代史を探るうえで大切な史跡といえるでしょう。

なお、文化財保護法のなかで国が指定した有形文化財(重要文化財)から、とりわけ国民の宝として国が指定したものを国宝と呼んでいます。東京都には建造物としては次の二つがあります。一つは東村山市にある(カ)正福寺地蔵堂です。用材の墨書きにより1407年に建てられたとわかりました。その建築様式は鎌倉の(キ)円覚寺舍利殿と同じ禅宗様式です。もう一つは迎賓館です。迎賓館は、近代日本を代表する建築家である(ク)片山東熊の設計により、1909年に東宮御所として完成しました。(ケ)ヴェルサイユ宮殿を模したこの建造物は、日本の近代化を象徴する建物でした。その後、大規模な改修によって迎賓館として新たに開館され、2009年に国宝に指定されました。

以上のように、東京にも貴重な文化財がたくさんあります。皆さんもぜひ身近な歴史に触れることで、歴史に対する興味を深めてください。

問1. 下線部(ア)について、この建物が造られたのと同じ頃に、南アメリカ大陸原産のある作物の栽培が幕府により奨励されました。その作物は何ですか、カタカナで答えなさい。

問2. 下線部(イ)に関連して、稻荷神は、江戸時代頃からは商業の神として信仰されるようになりました。江戸時代の商業について説明した次の文のうち、正しいものを一つ選び番号で答えなさい。

1. 徳川綱吉は、商業を活発にするために楽市楽座令を出した。
2. 江戸や大坂(大阪)などの都市では、金貨や銀貨を交換する両替商が発達した。
3. 「天下の台所」と言われた江戸には、各藩の蔵屋敷が置かれた。
4. 商業の発達とともに人の移動が増えると、幕府は通行税を取るために関所を設けた。

問3. 下線部(ウ)について、各地の遺跡の出土品について説明した次の文のうち、正しいものを一つ選び番号で答えなさい。

1. 吉野ケ里遺跡から、大量の縄文土器が出土した。
2. 三内丸山遺跡から、祭りで使われたと考えられる須恵器が出土した。
3. 江田船山古墳から、漢字が記された鉄刀が出土した。
4. 平城京跡からは、宋から輸入されたと考えられる銅銭が大量に出土した。

問4. 下線部(エ)について、6世紀から7世紀の間に起きた次の出来事を、年代の古い順に並び替え番号で答えなさい。

1. 冠位十二階の制定
2. 百済の滅亡
3. 壬申の乱
4. 隋の中国統一

問5. 空らん(オ)にあてはまる昔の国名を漢字で答えなさい。

問6. 下線部(カ)について、正福寺地藏堂が建てられた時期の日本の状況について説明した次の文のうち、最も適当なものを一つ選び番号で答えなさい。

1. 倭寇の取りしまりを求めてきた明と、勘合貿易を行っていた。
2. 後醍醐天皇の政治に対する批判が高まっていた。
3. 戦において、鉄砲が使われるようになっていた。
4. 太政大臣であった平清盛をはじめとして、平氏が政治の実権を握っていた。

問7. 下線部(キ)は臨濟宗の寺ですが、建仁寺をひらいて臨濟宗を伝えた人物は誰ですか、漢字で答えなさい。

問8. 下線部(ク)の人物は、イギリス人のコンドルから建築学を学びました。コンドルが設計し、日本の欧化政策の象徴となった建物を何と呼びますか、漢字で答えなさい。

問9. 下線部(ケ)について、ある戦争の講和条約がこの宮殿で結ばれました。この戦争や講和条約について説明した次の文のうち、正しいものを一つ選び番号で答えなさい。

1. 日本はこの戦争によって国際的地位を高め、戦争後に関税自主権の回復に成功した。
2. この戦争中に、日本は二十一か条の要求を中国に突きつけた。
3. この戦争では、日本はドイツと同盟してイギリスやフランスと戦った。
4. この講和条約に基づいて、国際平和維持のために国際連合が設立された。

2019年度 豊島岡女子学園中学校入学試験
社会解答用紙 (3回)

*印のらんには書かないこと

1	問 1	問 2	問 3	問 4	問 5
	問 6	問 7	問 8		*

2	問 1	問 2	問 3	問 4	
	問 5		問 6		問 7
	問 8				
					*

3	問 1		問 2	問 3	
	問 4		問 5		問 6
	→ → →				
	問 7	問 8		問 9	
					*

座席 番号	—				氏 名	
受験 番号	1	3				

得 点	*
--------	---

2019年度 豊島岡女子学園中学校入学試験
社会解答用紙 (3回)

*印のらんには書かないこと

1	問 1	問 2	問 3	問 4	問 5
	3	2	4	憲法改正	4
	問 6	問 7		問 8	*
	4	アボリジニー		キジ	

各2点

2	問 1	問 2	問 3	問 4							
	3	3	2・4	1							
	問 5		問 6		問 7						
	ハザードマップ		新潟水俣病(第二水俣病)		5						
	問 8					*					
	川	に	流	れ	込		む	雪	ど	け	水
	減	少	す	る	か	ら	。				

各2点

3	問 1		問 2	問 3	
	サツマイモ		2	3	
	問 4		問 5		問 6
	4 → 1 → 2 → 3		武蔵		1
	問 7		問 8	問 9	*
	栄西		鹿鳴館	2	

各2点

座席 番号	—				氏 名	
受験 番号	1	3				

得 点	*
--------	---