

平成22年度

豊島岡女子学園中学校

入学試験問題

(2回)

社 会

注意事項

1. 合図があるまで、この冊子を開いてはいけません。
2. 問題は から 、2ページから 7ページまであります。
合図があったら確認してください。
3. 解答は、すべて指示に従って解答らんに記入してください。
4. 解答用紙は理科と区別するために、うすい水色になっています。

1 次の文章を読んで問いに答えなさい。

自分の考えを相手に伝える。簡単なことのようにですが、実はとても難しいことです。まして、直接会えない人が相手だとしたら、どうでしょうか。


(ア) 日本で文字が使われるようになってから、人々はそれを情報伝達的手段として役立ててきました。(イ) 紙が普及すると、手紙によってさまざまな情報伝達が行なわれるようになり、政治的なものや個人的なものといった性格の違いによって書き方も区別されるようになっていきました。また、(ウ) 手紙の書き手と受け手との間の身分の違いによっても細かく書き方の決まりがあり、それを守らないことは受け手に対してとても失礼なことでした。

一方、文字によって何かを相手に伝えるといったとき、その相手が未来の人であることもあります。(エ) 貴族の日記の多くは、自分の子孫の(オ) 行動手引きとなることを想定して書かれていたものでした。そのため、日記は家の財産として長く大切に保管されていました。

近代になり、情報を伝えるという面において、人間はめざましい進歩をとげてきました。日本においては、(カ) によって(キ) 飛脚に代わる近代的な(ク) 郵便制度が導入され、さらに最近ではパソコンや情報技術の進歩により、インターネットで電子メールのやり取りが盛んに行われるようになってきました。しかし、それによって書き手の思いが受け手に適切に伝わっていると言えるのでしょうか。

右の写真は、鎌倉時代に(ケ) 紀伊国阿氏河荘の農民が書いたものです。カタカナでのたどたどしい文章の中に、農民の思いがよく表れています。これは、電子メールのように誰が書いても同じように書かれる文字からは感じられないものです。

情報社会と呼ばれ、文字情報のやり取りが盛んに行われるようになった現代においても、手書きで思いを伝える価値を忘れずにいたいものです。



問1. 下線部(ア)に関連して、文字による記録としての使用例はいくつかの石碑や鉄剣に刻まれたものから確認できます。それらが作成された時期について説明した次の文のうち、正しいものを一つ選び番号で答えなさい。

1. 各地の王の力を示すために、祭りの場である古墳が造られた。
2. さまざまな装飾がほどこされた土器が作られた。
3. 大陸から稲作の技術が伝わり、高床倉庫などが作られるようになった。
4. 石を打ちかいた道具を用い、大型動物を狩りして食べていた。

- 問2. 下線部(イ)について、紙が普及する以前は木札に文字を記すことが多かったのですが、平城京跡などから多く見つかるこのような木札を何といいますか、漢字で答えなさい。
- 問3. 下線部(ウ)について、その取り決めをまとめた書物として『弘安礼節』というものがあります。この書名は作成された時の年号にちなむものですが、この『弘安礼節』が作られたときにすでに存在したものを、次から**すべて**選び番号で答えなさい。
1. 備中鋏 2. 永楽通宝 3. 東大寺 4. 御成敗式目 5. 鹿鳴館
- 問4. 下線部(エ)について、「この世をば わが世とぞ思う 望月の かけたることも なしと思えば」という望月の歌はある貴族の日記に書かれたものですが、次の歌の中で、望月の歌よりも前に詠まれたものを一つ選び番号で答えなさい。
1. なれやしる 都は野辺の 夕ひばり あがるを見ても 落つるなみだは
2. 天の原 ふりさけ見れば 春日なる 三笠の山に いでし月かも
3. 泰平の 眠りを覚ます 上喜撰 たった四杯で 夜も眠れず
4. 白河の 清きに魚の すみかねて もとのにごりの 田沼こいしき
- 問5. 下線部(オ)に関連して、行動の手引きについて述べた次の文のうち、正しいものを一つ選び番号で答えなさい。
1. 奈良時代、律令によって農民たちは絹や木綿以外の服を着ることが禁じられていた。
2. 室町時代の村では、村民たちが起請文に誓いあった内容を破ると大名から厳しい罰が与えられた。
3. 江戸時代は、生類憐みの令などによって殺生や死を嫌う風潮が広まっていった。
4. 明治時代に出された五榜の掲示では、外国人に対する攘夷を行うことが認められた。
- 問6. 空らん(カ)にあてはまる人物の氏名を漢字で答えなさい。
- 問7. 下線部(キ)が活躍した江戸時代の交通制度について述べた次の文のうち、正しいものを一つ選び番号で答えなさい。
1. 大河川には橋をかけて民衆が旅をしやすようにした。
2. 主要街道の一定距離ごとに木が植えられ、移動の目安となった。
3. 関所ではきびしく通行税が取り立てられた。
4. 宿場町とは別の場所に大名が宿泊する施設が設けられていた。
- 問8. 下線部(ク)に関連して、現在の郵便事業を担当している省庁はどこですか、漢字で答えなさい。
- 問9. 下線部(ケ)は、農民らが、その荘園の治安を守る役割を幕府から与えられた武士に、ひどい仕打ちを受けたことを訴えたものですが、そのような役割の武士を何といいますか、漢字で答えなさい。

2

次の文章を読んで問いに答えなさい。

今年中に成田新高速鉄道が開通する予定です。また今年の12月に、(ア)東北新幹線が延びて全線開通となります。日本ではこのような高速鉄道の整備が進められていますが、海外でも日本の高速鉄道が注目されています。すでに、日本の新幹線をもとにした車両が、北京オリンピック用に中国に輸出されました。さらに、アメリカのオバマ大統領が打ち出した「(イ)ニューディール政策」の一環として高速鉄道計画があげられ、日本の新幹線技術の導入が検討されているようです。

成田新高速鉄道は、北総線などを延ばす形で19キロメートル(km)ほどの鉄道が敷設されます。これまで(ウ)成田空港は都心までの時間がかかることが指摘されており、J R や京成線の特急で最短でも51分かかっています。今回の開業に合わせて新型車両を導入し、最速36分で結ばれるようになります。さらに、今回の計画においては北印旛沼を橋梁で通過することによる(エ)環境への影響を十分に配慮することが求められ、(オ)千葉県は鳥類の保護などのために新しいヨシ原を造成するなどの対応も進めています。さらに、線路と並行して道路の整備も進められており、途中にある千葉(カ)ニュータウンの発展も期待されています。

一方、東北新幹線は、1982年に開業し、2002年には盛岡から(キ)までが開通、さらに今回は(キ)から新青森まで延びます。東北新幹線開業前の上野・青森間は特急でも8時間45分かかっていましたが、今回の全線開通で3時間20分程度に短縮されます。さらに新型車両の導入が予定されており、3時間程度で結ばれるようになります。これによって青森などの(ク)東北地方が都心から身近な場所へと変わっていくことが期待されています。

しかしながら問題がないわけではありません。今回延びる部分と並行する在来線は経営を「青い森鉄道」という第三セクター方式の鉄道会社が行うこととなります。その経営はかなり厳しいものになることが予想され、出資している青森県などの対応が必要になります。さらに、開業間近の(ケ)新青森駅周辺では開発が進んでいないうえに、冬の時期の開通で観光を目玉にしにくい状況のようです。また3時間程度で都心と結ばれてしまうと、買い物客などを首都圏に奪われてしまうのではないかという心配もあります。

新しい高速鉄道の開通は華々しく、周辺地域の開発に大きな影響をあたえますが、高速鉄道の駅とならない周辺地域にとってはマイナスの面もあり、その開発や運用は難しい問題であるといえます。

問1. 下線部(ア)について、東北新幹線が通過する県の中で、もも、さやいんげん、繭の生産額がすべて全国第2位(2007年)となるのはどこですか、次から選び番号で答えなさい。

1. 埼玉県 2. 栃木県 3. 福島県 4. 宮城県 5. 岩手県

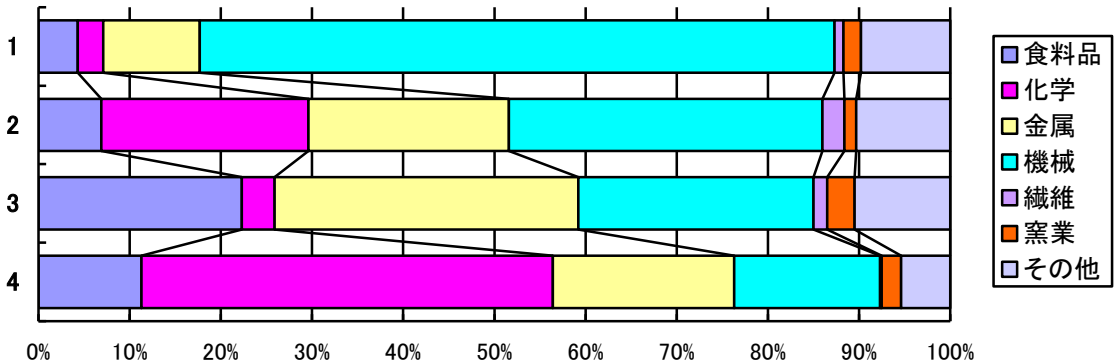
問2. 空らん（イ）にあてはまる語句を答えなさい。

問3. 下線部(ウ)において、輸入額(2008年)が最も多いものを次から選び番号で答えなさい。

- 1. 事務機器 2. 通信機器 3. 食料品
- 4. 化学製品 5. 半導体等電子部品

問4. 下線部(エ)に関連して、環境破壊を未然に防ぐために、開発を行う前に環境に与える影響の調査・予測・評価を行います。そのような評価制度を何といいますか、漢字カタカナを交えて8文字で答えなさい。

問5. 下線部(オ)に関連して、次のグラフは青森県、千葉県、愛知県、大阪府の製造品出荷額(2007年)の割合を示したものです。このうち千葉県のグラフを選び番号で答えなさい。

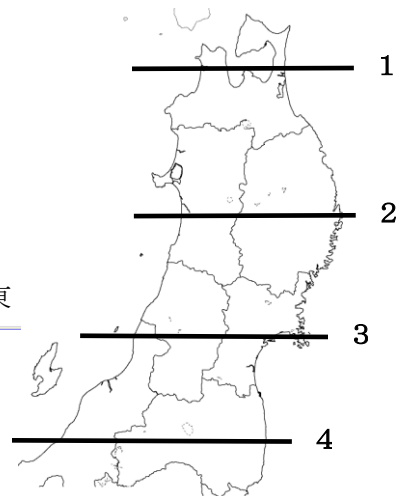
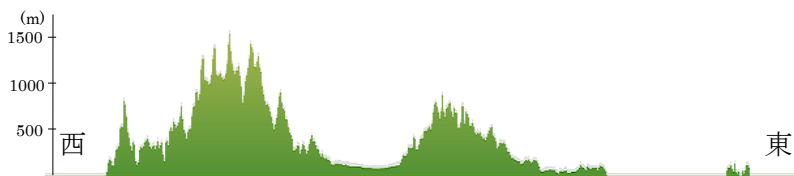


問6. 下線部(カ)は都心で深刻化した問題に対応してつくられるようになりましたが、それはどのような問題ですか、15字程度で簡単に答えなさい。

問7. 空らん（キ）にあてはまる地名を答えなさい。

問8. 下線部(ク)に関連して、下の断面図は東北地方のある部分を東西方向に切断した時のものです。右の地図のどの部分のものです。一つ選び番号で答えなさい。

(断面図：東西約220km)



問9. 下線部(ケ)に関連して、新青森駅のある津軽半島には天然の日本三大美林の一つが広がっていますが、それは何の林ですか、次から一つ選び番号で答えなさい。

- 1. クヌギ 2. サクラ 3. スギ 4. ヒノキ 5. ヒバ

3 次の文章を読んで問いに答えなさい。

みなさんは将来、どのような仕事につきたいですか。医者、弁護士、キャビンアテンダント、プログラマー、小説家など現代社会にはさまざまな職業がありますが、日本では一般的に、学校を卒業すると多くの人が企業などに就職します。会社に雇われて給料をもらい、生活に必要な様々な物や(ア)サービスを「買う」ことができるのです。そして、単に生活のためのお金を稼ぐというだけではなく、仕事を持ち、働くことで、社会の一員としての役割を確認したり、自分の夢や目標を実現することもあります。つまり、仕事をしている人々にとって、働くということは、生きることでもあるわけです。

(イ)今から40年ほど前までは、学校を出て企業に就職すると、正社員としてずっとその企業で働くのがふつうで、転職する人はあまりいませんでした。最近では、正社員の数が減り、パートタイマーやアルバイトとして働く人が増えています。このような働き方を「気楽で良い」と思う人もいるかもしれませんが、多くの人は、正社員になりたいと思いつつもアルバイトをしているという状況です。日本国憲法第27条には「すべて国民は、(ウ)の権利を有し、義務を負ふ(う)」と書かれているのに、働きたいのに仕事がないという状況では、義務の果たしようがないというものです。

仕事がなく苦しい人がいる一方で、人手の足りない職種もあります。高齢者の介護に従事する介護ヘルパーなどは、(エ)急激に高齢化が進む日本でとても必要とされているのに、いつも足りない状態です。この対策のひとつとして、日本政府はインドネシアから看護師および介護福祉士の候補者を一昨年から受け入れています。これは、日本とインドネシア政府が結んだ(オ)EPA(経済連携協定)という約束事をふまえて行われています。インドネシアからやってきた看護師たちは、日本で看護助手や介護ヘルパーの仕事をしながら、3年以内に日本の国家試験に合格しなければなりません。試験に合格すれば、正式に(カ)日本国内で仕事に就き、定住することができるようになります。

移り行く時代のなかで、日本経済は変化し、人々の働き方も変わってきました。経済の国際化も、今後ますます進んでいくことでしょう。将来は、もっと多くの外国の人たちが様々な職場に登場したり、多くの日本人が外国に働きに行くようになってきたりすることも予想され、仕事の種類や働き方も、今よりもっと多様になるかもしれません。(キ)大人になった皆さんは、その時、どのような仕事、どのような働き方を選ぶのでしょうか。

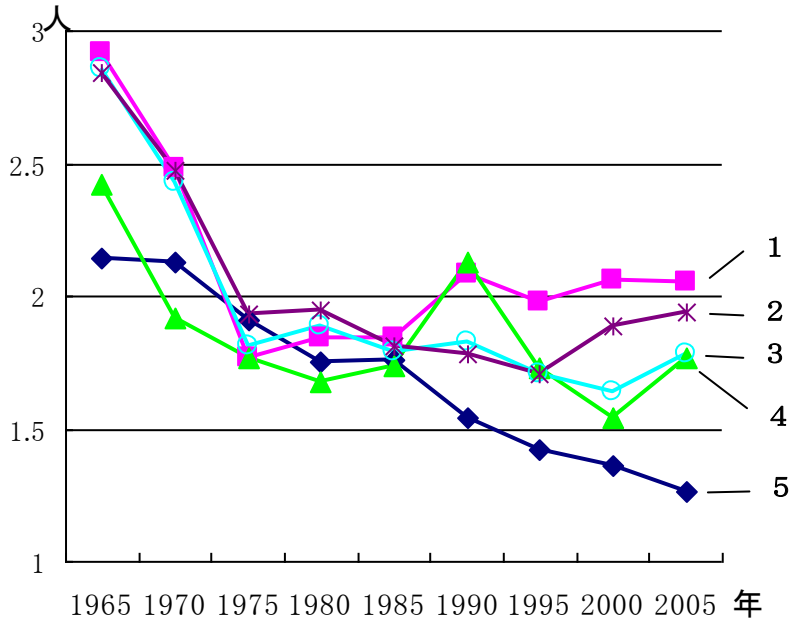
問1. 下線部(ア)に当てはまらないものを、次から一つ選び番号で答えなさい。

1. 電車に乗る
2. 塾に通う
3. 診療を受ける
4. 家を建てる
5. 美容院に行く

問2. 下線部(イ)に関連して、この時期に「新三種の神器(3C)」として新しい生活の象徴であり、憧れでもあったものがあります。それは、自家用自動車(カー)とカラーテレビと、そして残りの一つは何ですか、カタカナで答えなさい。

問3. 空らん(ウ)にあてはまる語句を漢字で答えなさい。

問4. 下線部(エ)に関連して、高齢化が進む要因の一つとして出生率の低下があります。右のグラフは、日本、アメリカ、スウェーデン、イギリス、フランスの合計特殊出生率(一人の女性が一生の間に産む子供の数の平均)の変化を示しています。このうち日本のものを選び番号で答えなさい。



問5. 下線部(オ)について、EPAとは国家間で結ばれる自由貿易などに関する協定です。これに対して、多国間の自由貿易を進めている国際機関のことを何と呼びますか、次から一つ選び番号で答えなさい。

1. WTO 2. ODA 3. IOC 4. IAEA 5. GATT

問6. 下線部(カ)に関連して、日本国内に住んでいて日本国籍をもっていない外国人のことを定住外国人といいます。彼らの参政権(選挙権・被選挙権)について述べた次の文のうち、正しいものを一つ選び番号で答えなさい。

1. 定住外国人は日本に長く住み続けているので、日本人と同様の参政権を持っている。
2. 定住外国人は国会議員選挙の投票権はないが、地方選挙の投票権を持っている。
3. 定住外国人は議員を選ぶ選挙権はあるが、自分が議員に立候補する被選挙権はない。
4. 定住外国人は今のところ、国政選挙においても地方選挙においても参政権はない。

問7. 下線部(キ)に関連して、昨年7月、法制審議会では成人年齢を18歳に引き下げることが妥当であるとの報告をしました。18歳以上に成人と同様の資格を与えている法律を、次から一つ選び番号で答えなさい。

1. 教育基本法
2. 国民投票法
3. 男女雇用機会均等法
4. 国民保護法
5. 公職選挙法

平成 22 年度 豊島岡女子学園中学校入学試験
社会解答用紙 (2 回)

*印のらんには書かないこと

1	問 1	問 2	問 3	問 4	問 5
	問 6	問 7	問 8	問 9	

*

2	問 1	問 2	問 3	問 4					
	問 5	問 6			問 7				
	問 8	問 9							*

3	問 1	問 2	問 3	問 4	問 5
	問 6	問 7			

受験 番号		氏名	
----------	--	----	--

得点	*
----	---

平成 22 年度 豊島岡女子学園中学校入学試験
社会解答用紙 (2回)

*印のらんには書かないこと

1	問 1	問 2	問 3	問 4	問 5
	1	木 簡	3・4	2	3
	問 6		問 7	問 8	問 9
	前 島 密		2	総 務 省	地 頭
	各 2 点				*

2	問 1	問 2	問 3	問 4	
	3	グリーン	5	環境アセスメント	
	問 5	問 6			問 7
	4	人 口 増 加 に よ る 住 宅 不 足 の 問 題		八 戸	
	問 8	問 9	各 2 点		*
	3	5			

3	問 1	問 2	問 3	問 4	問 5
	4	クーラー	勤 労	5	1
	問 6	問 7	各 2 点		*
	4	2			

受験 番号		氏名	豊島岡女子学園
----------	--	----	---------

得 点	* 50
--------	------